

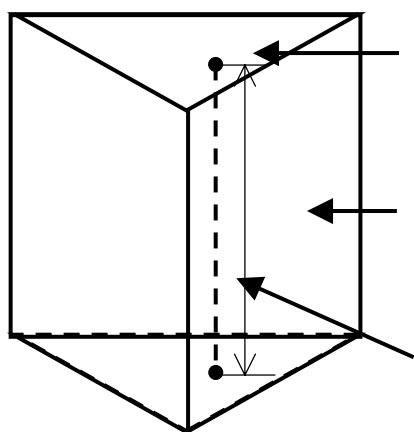
角柱と円柱

年 組 番

## いろいろな立体

名前

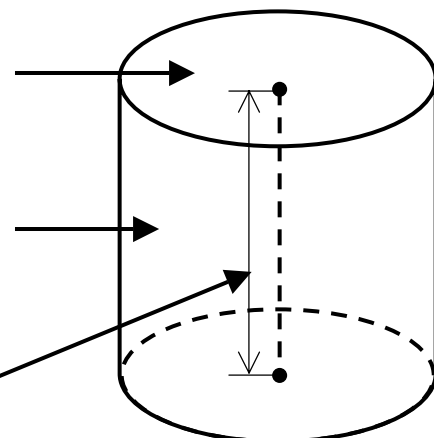
1. にあてはまることばをかきましょう。



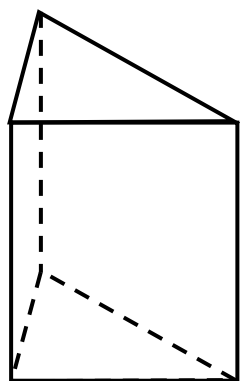
底面

側面

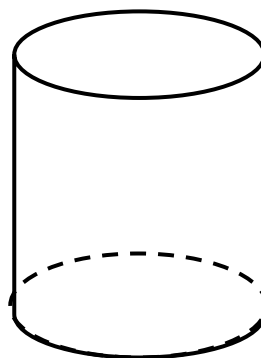
高さ



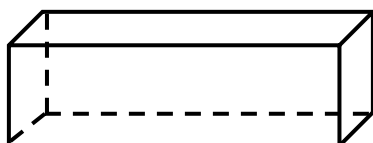
2. 次の立体の名まえを書きましょう。



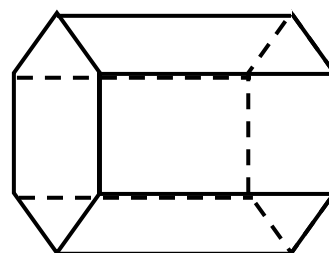
( 三角柱 )



( 円柱 )



( 四角柱 )



( 六角柱 )