

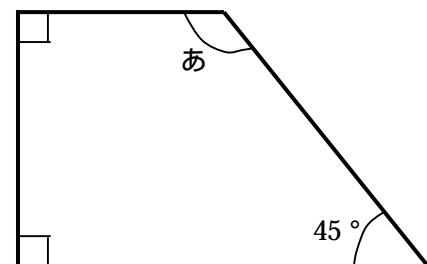
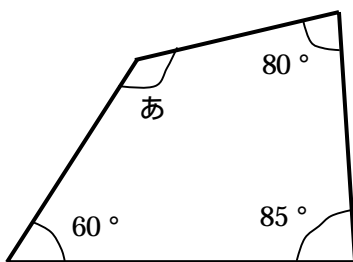
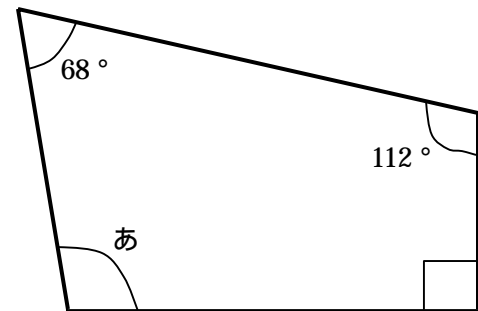
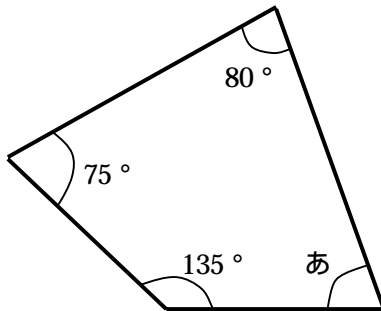
角の大きさ

## 四角形の角

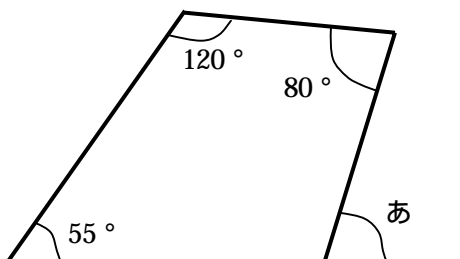
年 組 番

名前

1 下の四角形のあの角の大きさを計算で求めましょう。



2 下のあの角の大きさを計算で求めましょう。



3 八角形の8つの角の大きさの和は何度でしょう。

