


角

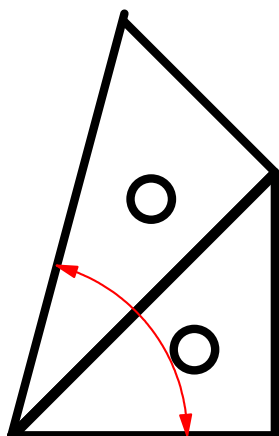
年 組 番

角の大きさのはかり方 3

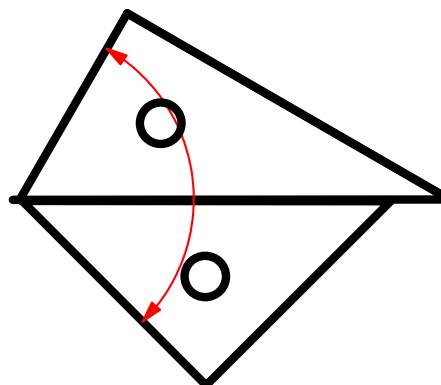
名前

ひと組の三角じょうぎを組み合わせた図です。

 ^{かくど}の角度を計算でもとめましょう。

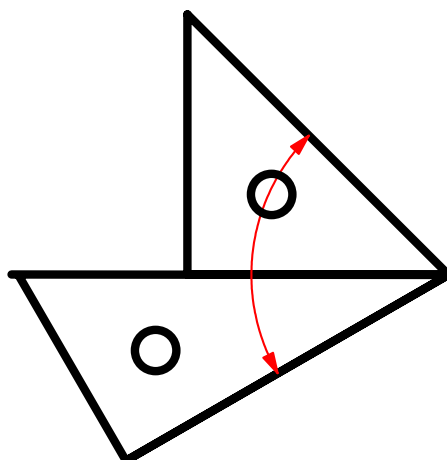


$$30^\circ + 45^\circ = 75^\circ$$

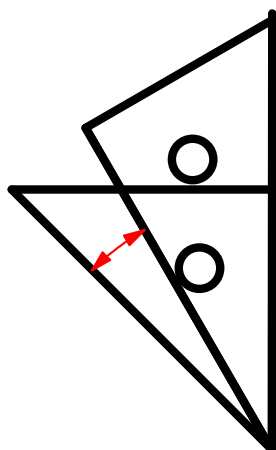


$$60^\circ + 45^\circ = 105^\circ$$

$$30^\circ + 45^\circ = 75^\circ$$



$$45^\circ - 30^\circ = 15^\circ$$



$$90^\circ - 30^\circ = 60^\circ$$

