

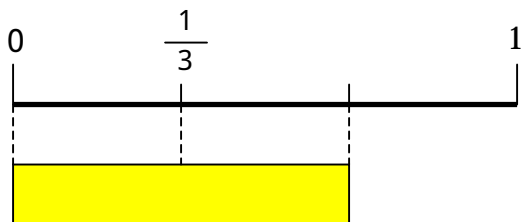
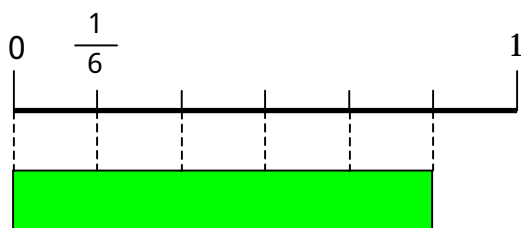
分数

はしたの表し方

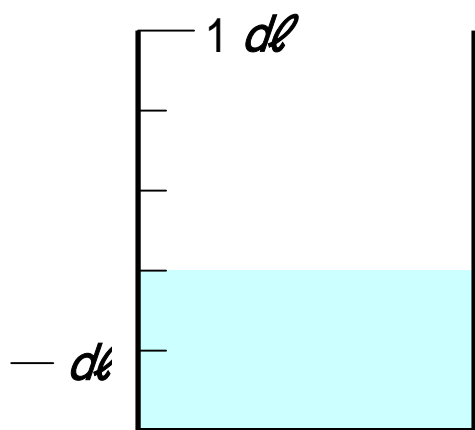

年 組 番

名前

それぞれのテープの長さは何mでしょう。

 $\frac{2}{3} \text{ m}$  $\frac{5}{6} \text{ m}$

それぞれの水の量は何 dl でしょう。

 $\frac{2}{5} \text{ dl}$  $\frac{3}{4} \text{ dl}$

つぎの分数をかきましょう。

分母が8で、分子が3

 $\frac{3}{8}$

分母が9で、分子が7

 $\frac{7}{9}$