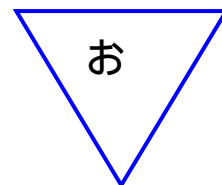
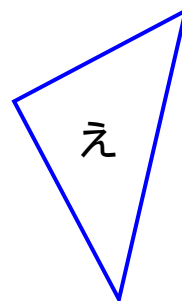
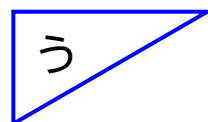
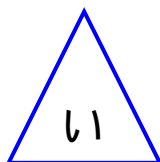
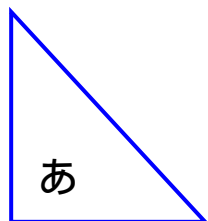


三角形と四角形

直角三角形

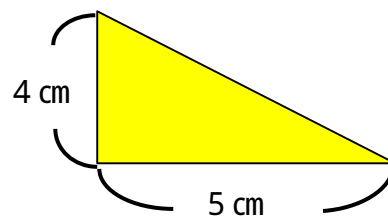
ねん	くみ	ばん
なまえ		

1. ^{ちよっかく} 直角三角形はどれでしょう。



2. 下のほうがんに^か書きこみましょう。

右の図の大きさ
の直角三角形



直角になる2つの辺の長さが3 cmと3 cmの直角三角形

