

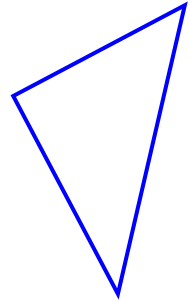
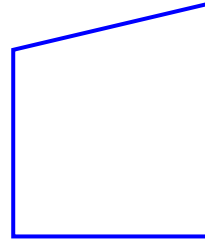
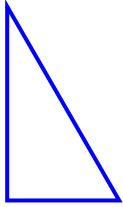
三角形と四角形

長方形と正方形

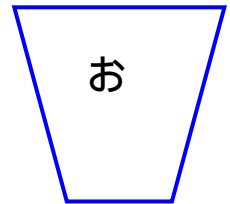
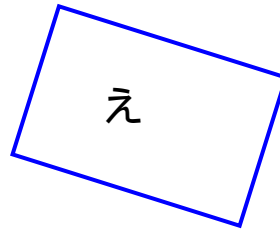


ねん くみ ばん

なまえ

1. 下のそれぞれの図形で、^{ずけい}直角な^{ちよっかく}ちょう^{てん}点に をつけましょう。



2. 長方形や正方形を見つけましょう。



3. 下のほうがんに^か書きこみましょう。

たての長さが 2 cm 横の長さが 4 cm の長方形

1 つのへんの長さが 4 cm の正方形

