

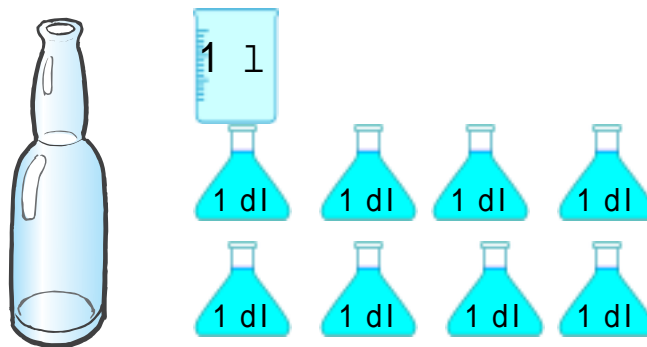
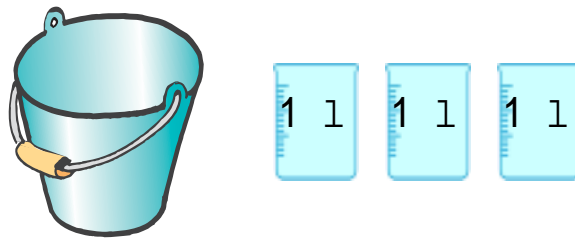
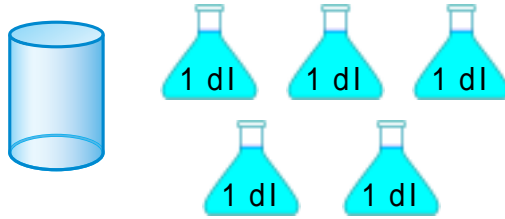
水のかさ

ねん くみ ばん

デシリットルとリットル

なまえ

1. それぞれのかさはどれだけでしょう。

2. ^{かず}にあう^か数を書きましょう。

$$1\text{l} = \quad \text{dl} \qquad 20\text{dl} = \quad \text{l}$$

$$3\text{l} 6\text{dl} = \quad \text{dl} \qquad 83\text{dl} = \quad \text{l} \quad \text{dl}$$

3. 計算をしましょう。

$$3\text{dl} + 5\text{dl} =$$

$$7\text{l} - 4\text{l} =$$

$$8\text{l} 4\text{dl} + 1\text{dl} =$$

$$3\text{l} 2\text{dl} - 2\text{dl} =$$

$$5\text{l} 3\text{dl} + 3\text{l} =$$

$$6\text{l} 5\text{dl} - 5\text{dl} =$$