


3けたのたし算

## ぶんしょうだい


ねん くみ ばん

なまえ

1. バスに 59 人のっています。ふねに 258 人のっています。ひこうきに 141 人のっています。



59 人



258 人



141 人

ふねと、ひこうきであわせて何人のっているでしょう。

$$\begin{array}{r} \text{ひっ算} \quad 258 \\ + 141 \\ \hline 399 \end{array} \quad 399 \text{ 人}$$

バスと、ひこうきであわせて何人のっているでしょう。

$$\begin{array}{r} \text{ひっ算} \quad 59 \\ + 141 \\ \hline 200 \end{array} \quad 200 \text{ 人}$$

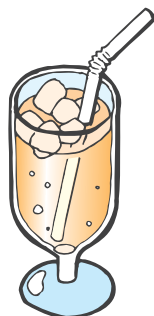
バスと、ふねであわせて何人のっているでしょう。

$$\begin{array}{r} \text{ひっ算} \quad 59 \\ + 258 \\ \hline 317 \end{array} \quad 317 \text{ 人}$$

2. ジュースは 350 円です。ピザはジュースより 500 円ねだんがたかいです。ピザはいくらでしょう。

$$350 + 500 = 850$$

850 円



350 円

