

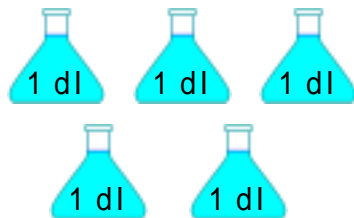
水のかさ

ねん くみ ばん

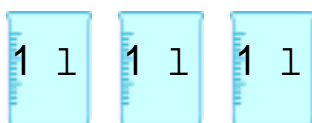
デシリットルとリットル

なまえ

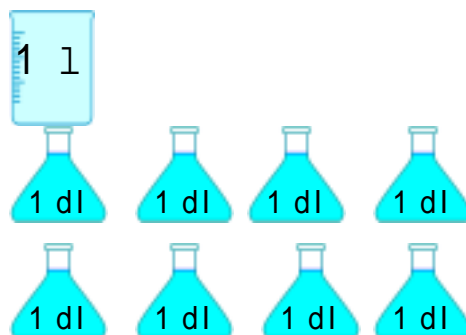
1. それぞれのかさはどれだけでしょう。



5 dl



3 l



1 l 8 dl

2. ^{かず}にあう^か数を書きましょう。

$$1\text{l} = 10\text{ dl}$$

$$20\text{ dl} = 2\text{ l}$$

$$3\text{l}6\text{ dl} = 36\text{ dl}$$

$$83\text{ dl} = 8\text{ l} 3\text{ dl}$$

3. 計算をしましょう。

$$3\text{ dl} + 5\text{ dl} = 8\text{ dl}$$

$$7\text{ l} - 4\text{ l} = 3\text{ l}$$

$$8\text{ l}4\text{ dl} + 1\text{ dl} = 8\text{ l}5\text{ dl}$$

$$3\text{ l}2\text{ dl} - 2\text{ dl} = 3\text{ l}$$

$$5\text{ l}3\text{ dl} + 3\text{ l} = 8\text{ l}3\text{ dl}$$

$$6\text{ l}5\text{ dl} - 5\text{ dl} = 6\text{ l}$$