

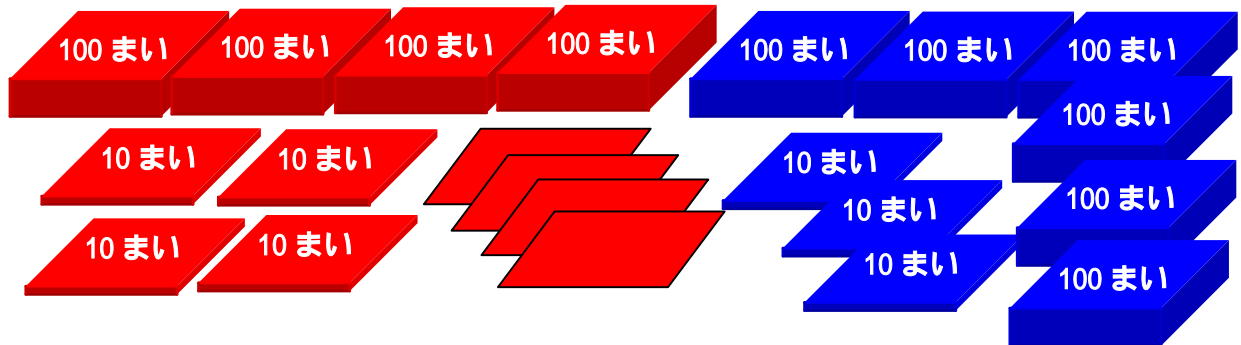
たし算(3)

## ぶんしょうだい

ねん くみ ばん

なまえ



1. あかいいろがみと、あおいいろがみをあわせて、何まいになるでしょう。



しき

こたえ

2. たべもののねだんは、あわせていくらでしょう。



しき

こたえ

3. がっこうぜんぶで、男の子が 578 人、女の子が 503 人います。がっこうぜんぶで、何人でしょう。

しき

こたえ

4. きのうち 789 円つかいました。きょうは、695 円つかいました。あわせて、いくらつかったでしょう。

しき

こたえ