


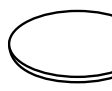
かけ算

ねん くみ ばん


かけ算の いみ

なまえ


1. えにあわせて、
 にあてはまる^{かず}数やかけ算のし
 きをかきましょう。



 (きゅうり) は  (おさら) 1まいに

本ずつ、 まいぶんで、 ぜんぶで 本。



しき




 (トマト) は、 

(おさら) 1まいに こずつ、

まいぶんで、 ぜんぶで こ。

しき

2. かけ算の式を書いてこたえましょう。
 ばななは、 ぜんぶでなん本でしょう。



テープはぜんぶで何cmでしょう。

