

1000 までの 数

なん十、なん百の たし算ひき算

ねん くみ ばん

なまえ


1. 右の物と左の物あわせて、何円でしょう。



30 円



90 円



400 円



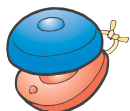
500 円



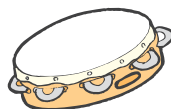
100 円



300 円



200 円



800 円


2. 左の物は、右の物より何円高いでしょう。



50 円



30 円



400 円



200 円



150 円



80 円



1000 円



500 円