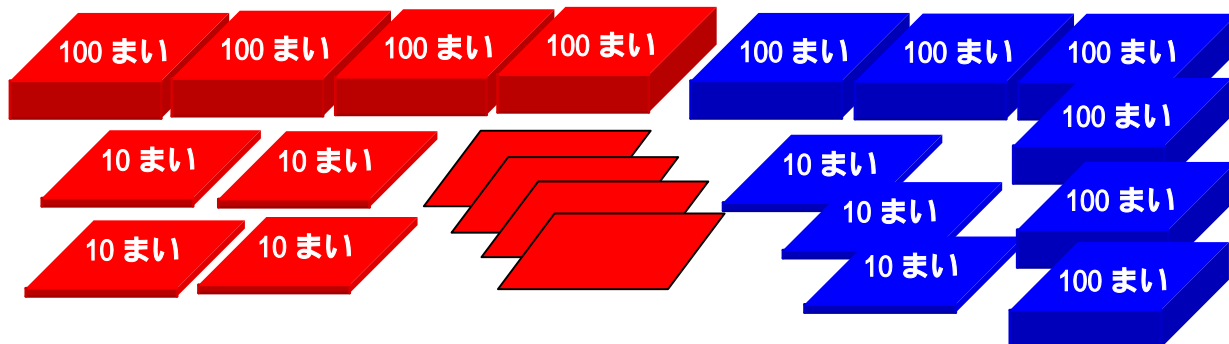


たし算(3)

ぶんしょうだい

ねん	くみ	ばん
なまえ		

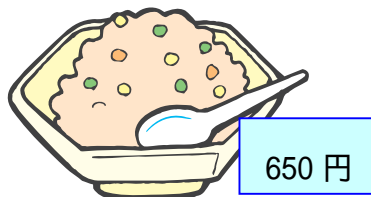

1. あかいいろがみと、あおいいろがみをあわせて、何まいになるでしょう。



しき $444 + 630 = 1074$

こたえ 1074 まい

2. たべもののねだんは、あわせていくらでしょう。



しき $780 + 650 = 1430$

こたえ 1430 円

3. がっこうぜんぶで、男の子が578人、女の子が503人います。がっこうぜんぶで、何人でしょう。

しき $578 + 503 = 1081$

こたえ 1081 人

4. きのうち789円つかいました。きょうは、695円つかいました。あわせて、いくらつかったでしょう。

しき $789 + 659 = 1448$

こたえ 1448 円