

かけ算


## かけ算の いみ

ねん	くみ	ばん
なまえ		


1. えにあわせて、<sup>かず</sup>にあてはまる数やかけ算のしきをかきましょう。

 (きゅうり) は  (おさら) 1まいに

3 本ずつ、3 まいぶんで、ぜんぶで 9 本。



しき  $3 \times 3 = 9$




  (トマト) は、

(おさら) 1まいに 2 こずつ、

8 まいぶんで、ぜんぶで 16 こ。

しき  $2 \times 8 = 16$

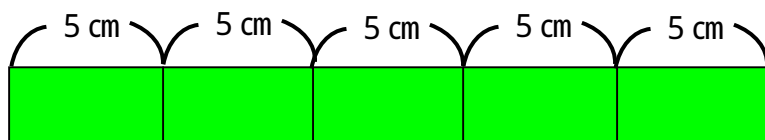
2. かけ算の式を書いてこたえましょう。  
ばななは、ぜんぶでなん本でしょう。



$4 \times 5 = 20$

20 本

テープはぜんぶで何cmでしょう。



$5 \times 5 = 25$

25cm