

1000 までの 数

なん十、なん百の たし算ひき算

ねん くみ ばん

なまえ

1. 右の物と左の物あわせて、何円でしょう。




30 円



90 円

$$30 + 90 = 120$$

120 円



400 円



500 円

$$400 + 500 = 900$$

900 円



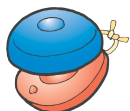
100 円



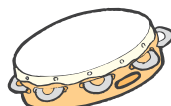
300 円

$$100 + 300 = 400$$

400 円



200 円



800 円

$$200 + 800 = 1000$$

1000 円

2. 左の物は、右の物より何円高いでしょう。




50 円



30 円

$$50 - 30 = 20$$

20 円



400 円



200 円

$$400 - 200 = 200$$

200 円



150 円



80 円

$$150 - 80 = 70$$

70 円



1000 円



500 円

$$1000 - 500 = 500$$

500 円