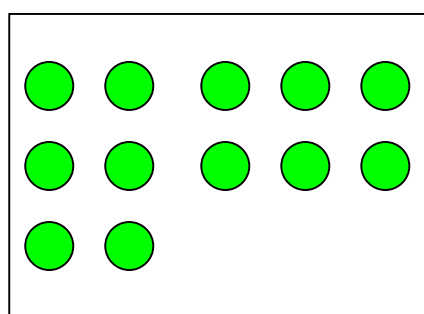


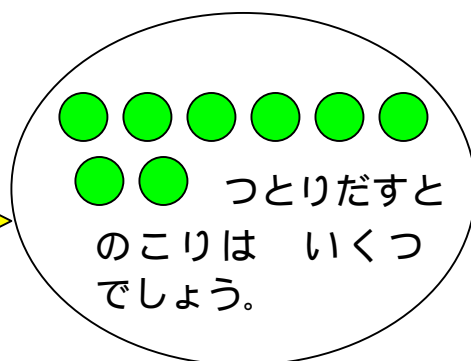

## ひきざん(2)

ねん	くみ	ばん
なまえ		

ひきざんを しましょう。



ここから

し  
き

$$\square - \square = \square$$

こたえ：●は  $\square$  のこります。

---


$$13 - 9 =$$

$$15 - 8 =$$

$$17 - 8 =$$

$$12 - 7 =$$