


ひきざん(1)

ねん くみ ばん
なまえ

のこりは なんにんでしょう。




5にんが ろうかに
います。

ひとり いなくなると




$$\square - \square = \square$$

3にん いなくなると



$$\square - \square = \square$$

5にん いなくなると



$$\square - \square = \square$$