



たしざん(1)


| | | |
|-----|----|----|
| ねん | くみ | ばん |
| なまえ | | |

あわせると いくつですか。しきを かいて
こたえましょう。



$$\square + \square = \square$$

こたえ



はあわせて



ひきです。

たしざんを しましょう。

$$1 + 2 =$$

$$3 + 3 =$$

$$4 + 2 =$$

$$2 + 7 =$$

$$6 + 3 =$$