



たしざん(1)

ねん	くみ	ばん
なまえ		

あわせると いくつですか。しきを かいて
こたえましょう。



$$\square + \square = \square$$

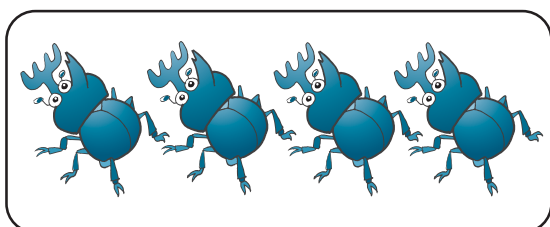
こたえ



はあわせて



ひきです。



$$\square + \square = \square$$

こたえ



はあわせて



ひきです。