


ひきざん(1)

ねん くみ ばん
なまえ

のこりは なんにんでしょう。




5にんが ろうかに
います。

ひとり いなくなると




$$5 - 1 = 4$$

3にん いなくなると



$$5 - 3 = 2$$

5にん いなくなると



$$5 - 5 = 0$$