



ひきざん(1)

ねん	くみ	ばん
なまえ		

のこりは いくつですか。

しきを かいて こたえましょう。





1つ たべると

$$\boxed{3} - \boxed{1} = \boxed{2}$$

こたえ

2



5ほん たべると

$$\boxed{8} - \boxed{5} = \boxed{3}$$

こたえ

3