



たしざん(1)


ねん	くみ	ばん
なまえ		

あわせると いくつですか。しきを かいて
こたえましょう。



$$\boxed{5} + \boxed{4} = \boxed{9}$$

こたえ



はあわせて

9

ひきです。

たしざんを しましょう。

$$1 + 2 = 3$$

$$3 + 3 = 6$$

$$4 + 2 = 6$$

$$2 + 7 = 9$$

$$6 + 3 = 9$$