



## たしざん(1)

ねん	くみ	ばん
なまえ		

あわせると いくつですか。しきを かいて  
こたえましょう。



$$3 + 2 = 5$$


こたえ



はあわせて

5

ひきです。



$$4 + 1 = 5$$

こたえ



はあわせて

5

ひきです。